

1.- Un dispositivo óptico está fabricado con vidrio de  $n = 1,5$ , tiene la forma de un cuarto de cilindro (ver figura 1). Sobre él y por la cara plana se hacen incidir rayos luminosos a distintas alturas  $h$ , se pide encontrar una expresión que nos dé los valores de  $x$  positivos para los que la luz incide sobre la recta  $AB$

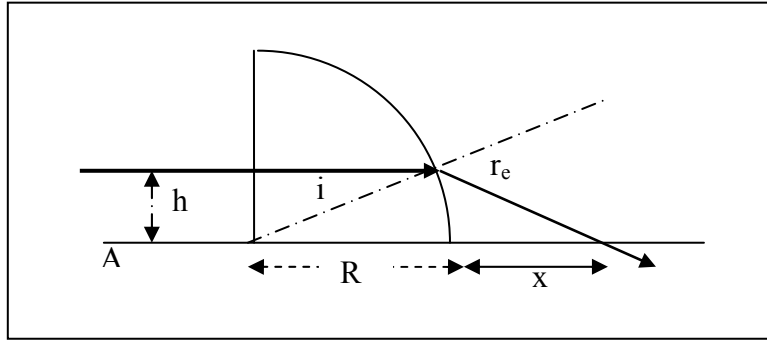


Fig. 1

Como la luz incide desde el vidrio al aire, esto es, desde un medio de mayor índice a uno de menor, habrá una altura máxima  $h_{\max}$ , para la que el rayo refractado forme un ángulo de  $90^\circ$ , por encima de ese  $h_{\max}$  los rayos se reflejarán y no se refractarán. Para ese  $h_{\max}$  corresponde un  $x$  mínimo.

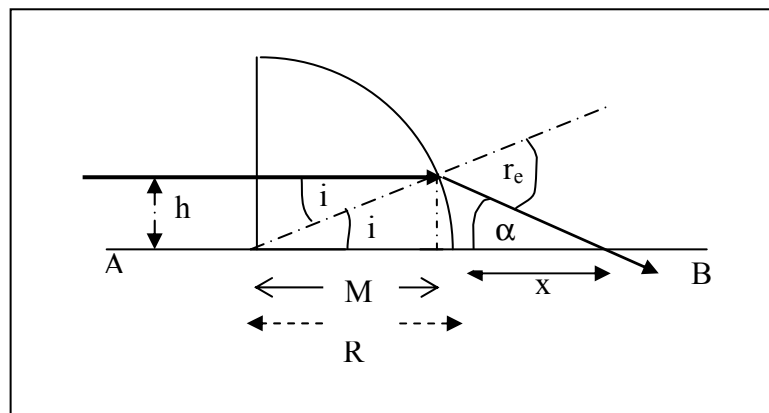


Fig.2

Según la ley de Snell  $n \sin i = 1 \sin r_e$

De la figura 2 se deduce:  $\sin i = \frac{h}{R} \Rightarrow \sin r_e = \frac{nh}{R}$  ;  $\tan i = \frac{h}{M}$

$$\tan \alpha = \frac{h}{x + R - M} = \frac{h}{x + R - \frac{h}{\tan i}}$$

Pero el ángulo alfa es igual a  $\alpha + i = r_e \Rightarrow \alpha = r_e - i$

$$\operatorname{tag} (r_e - i) = \frac{h}{x + R - \frac{h}{\operatorname{tag} i}} \quad (1)$$

Cuando  $r_e = 90^\circ$  se obtendrá el valor de  $x$  mínimo

$$\operatorname{tag} (90^\circ - i) = \frac{h}{x_{\min} + R - \frac{h}{\operatorname{tag} i}} \Rightarrow \frac{1}{\operatorname{tag} i} = \frac{h}{x_{\min} + R - \frac{h}{\operatorname{tag} i}} \Rightarrow x_{\min} = h \left( \operatorname{tag} i + \frac{1}{\operatorname{tag} i} \right) - R \Rightarrow$$

$$x_{\min} = R \operatorname{sen} i \left( \frac{1 + \operatorname{tag}^2 i}{\operatorname{tag} i} \right) - R = R \operatorname{sen} i \left( \frac{1}{\cos^2 i \operatorname{tag} i} \right) - R = R \left( \frac{1}{\cos i} - 1 \right)$$

El valor del ángulo de incidencia para el que  $r_e = 90^\circ$ , se calcula a partir de la ley de

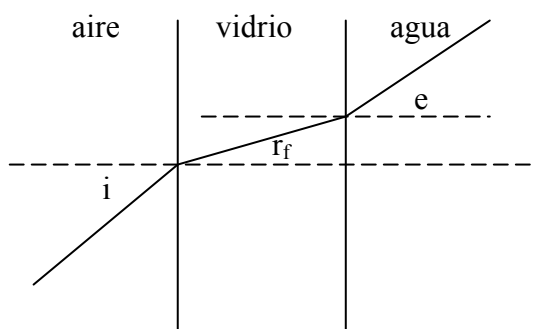
$$\text{Snell} \quad n \operatorname{sen} i = \operatorname{sen} 90 \quad ; \quad \operatorname{sen} i = \frac{1}{1,5} = \frac{2}{3} \quad \Rightarrow \quad \cos i = \sqrt{1 - \operatorname{sen}^2 i} = \frac{\sqrt{5}}{3}$$

$$x_{\min} = 5 * \left( \frac{3}{\sqrt{5}} - 1 \right) = 1,708 \text{ cm}$$

**2.-Sobre la pared lateral de un acuario de vidrio y desde el aire se envía un rayo luminoso con un cierto ángulo de incidencia. Se pide determinar si existe un ángulo de incidencia tal que después de penetrar en el vidrio no lo haga en el agua.**

**Índice de refracción del vidrio 1,5 y del agua 1,33.**

El esquema de la marcha de los rayos es el de la figura

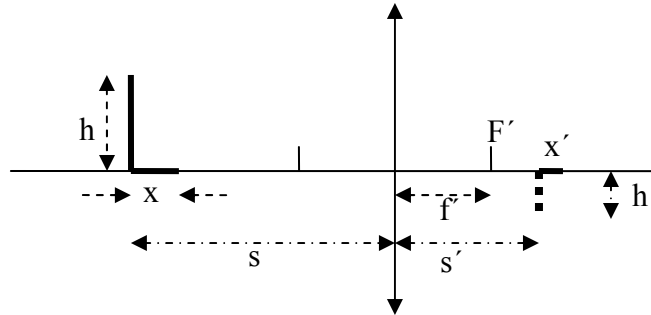


La aplicación de la ley de Snell

$$1 \operatorname{sen} i = 1,5 \operatorname{sen} r_f \quad ; \quad 1,5 \operatorname{sen} r_f = 1,33 \operatorname{sen} e$$

Si queremos que el rayo no penetre en el agua entonces  $e = 90^\circ$ , luego el seno del ángulo de incidencia tenía que valer 1,33 y eso no es posible, en consecuencia, cualquiera que sea el ángulo de incidencia el rayo llegará al agua.

3.- Un objeto en forma de L se encuentra a la izquierda de una lente convergente de distancia focal  $f'$ . Las dimensiones vertical del objeto es  $h$  y la horizontal  $x$ , tal como se indica en la figura.



El aumento transversal es  $\beta = \frac{h'}{h}$  y el longitudinal  $\alpha = \frac{x'}{x}$ . Encontrar la relación entre ambos aumentos y en particular cuando  $x$  sea muy pequeño comparado con  $s$ .

De la figura se deduce que:  $\beta = \frac{h'}{h} = \frac{s'}{s}$

La ecuación de las lentes delgadas

$$-\frac{1}{s} + \frac{1}{s'} = \frac{1}{f'} \Rightarrow \frac{1}{s'} = \frac{1}{f'} + \frac{1}{s} = \frac{f'+s}{f's} \Rightarrow s' = \frac{f's}{f'+s}$$

$$\beta = \frac{\frac{f's}{f'+s}}{s} = \frac{f'}{f'+s}$$

Aplicando de nuevo la ecuación de las lentes delgadas:

$$-\frac{1}{s-x} + \frac{1}{s'+x'} = \frac{1}{f'} \Rightarrow \frac{1}{s'+x'} = \frac{1}{f'} + \frac{1}{s-x} = \frac{f'+s-x}{f'(s-x)} \Rightarrow x' = \frac{f'(s-x)}{f'+s-x} - s' \Rightarrow$$

$$\Rightarrow x' = \frac{f'(s-x)}{f'+s-x} - \frac{f's}{f'+s} = \frac{(f's - f'x)(f'+s)}{(f'+s)(f'+s-x)} = \frac{f'^2s + f's^2 - f'^2x - f'xs - f'^2s - f's^2 + f'xs}{(f'+s)(f'+s-x)} \Rightarrow$$

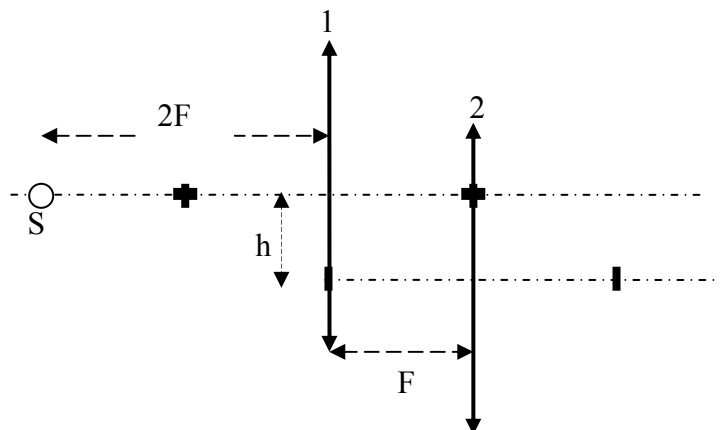
$$x' = \frac{-f'^2x}{(f'+s)(f'+s-x)}$$

$$\alpha = \frac{x'}{x} = \frac{-f'^2}{(f'+s)(f'+s-x)} = \frac{-f'^2(f'+s)}{(f'+s)^2(f'+s-x)} = \frac{-\beta^2}{\frac{(f'+s-x)}{(f'+s)}} = \frac{-\beta^2}{1 - \frac{x}{f'+s}}$$

En el caso de que  $x$  sea muy pequeño frente  $s$ , la fracción del denominador es un número muy pequeño, y para este caso

$$\alpha = \beta^2$$

4.- *Dos lentes convergentes tienen la misma distancia focal  $F$  y están situadas a una distancia  $F$  una de la otra. La segunda lente está a una altura  $h$  por debajo de la primera tal como indica la figura.*



*En el eje principal de la lente 1 está situado un punto luminoso  $S$  a una distancia  $2F$  de dicha lente. Calcular la distancia en línea recta entre  $S$  y la imagen  $S_1$  que forman las dos lentes.*

Para determinar donde se forma la imagen de  $S_1$  escogemos dos rayos luminosos procedentes de  $S$ . Uno que se desplaza por el eje principal de 1 y otro que se dirige desde  $S$  a la lente 1 apuntando al lugar donde se encuentra el foco objeto de la lente 2.

El primer rayo atraviesa la lente 1 sin desviarse y llega a la dos, en ella se refracta y pasa por el foco imagen de la lente 2 ya que es un rayo paralelo a su eje principal.

Si sólo estuviese la lente 1 podremos calcular dónde se forma la imagen de  $S$ , aplicando las formulas de las lentes delgadas

$$-\frac{1}{-2F} + \frac{1}{s_2} = \frac{1}{F} \Rightarrow \frac{1}{s_2} = \frac{1}{F} - \frac{1}{2F} \Rightarrow s_2 = 2F$$

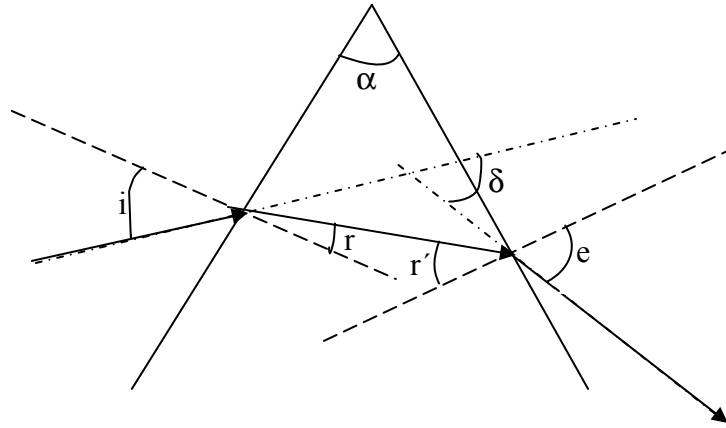
En la figura ese lugar está señalado con la letra  $M$ .

El segundo rayo procede de  $S$  y llega a la lente 1 en el foco objeto de la lente 2, se refracta y camina hacia el punto  $M$ , pero en su camino se encuentra con la lente 2, para ésta es un rayo que procede del foco objeto y por tanto después de atravesar la lente sale paralelo a su eje principal. En la figura se observa dónde se cortan los dos rayos considerados y ese es el lugar donde se forma la imagen  $S_1$ .



5.- Encontrar la relación general entre el ángulo de desviación  $\delta$  de un prisma, de ángulo  $\alpha$ , e índice de refracción  $n$ , situado en el aire ( $n=1$ ) en función de  $\alpha$ ,  $i$ ,  $n$ ,  $r$ ,  $r'$ ,  $e$ , (ver figura) y a partir de esa ecuación deducir la expresión para el ángulo de desviación mínima.

Determinar el ángulo de incidencia que produce desviación mínima en un prisma de  $\alpha = 60^\circ$  y  $n=1,5$ .



De la figura se deduce que  $i - r + e - r' = \delta$  ;  $r + r' = \alpha \Rightarrow \delta = i + e - \alpha$

Aplicando la ley de Snell

$$\text{sen } i = n \text{ sen } r \quad ; \quad n \text{ sen } r' = \text{sen } e$$

$$\text{sen } i + \text{sen } e = 2 \text{ sen } \frac{i+e}{2} \cos \frac{i-e}{2} = n (\text{sen } r + \text{sen } r')$$

Sustituyendo de (1)

$$2 \text{ sen } \frac{i+e}{2} \cos \frac{i-e}{2} = n (\text{sen } r + \text{sen } r') \Rightarrow 2 \text{ sen } \frac{\delta + \alpha}{2} = \frac{n (\text{sen } r + \text{sen } r')}{\cos \frac{i-e}{2}} \quad (2)$$

$$\text{sen } r + \text{sen } r' = 2 \text{ sen } \frac{r+r'}{2} \cos \frac{r-r'}{2} = 2 \text{ sen } \frac{\alpha}{2} \cos \frac{r-r'}{2} \quad (3)$$

Llevando (3) a (2)

$$2 \text{ sen } \frac{\delta + \alpha}{2} = \frac{n \cdot 2 \text{ sen } \frac{\alpha}{2} \cos \frac{r-r'}{2}}{\cos \frac{i-e}{2}} \Rightarrow \text{sen } \frac{\delta + \alpha}{2} = n \cdot \text{sen } \frac{\alpha}{2} \frac{\cos \frac{r-r'}{2}}{\cos \frac{i-e}{2}}$$

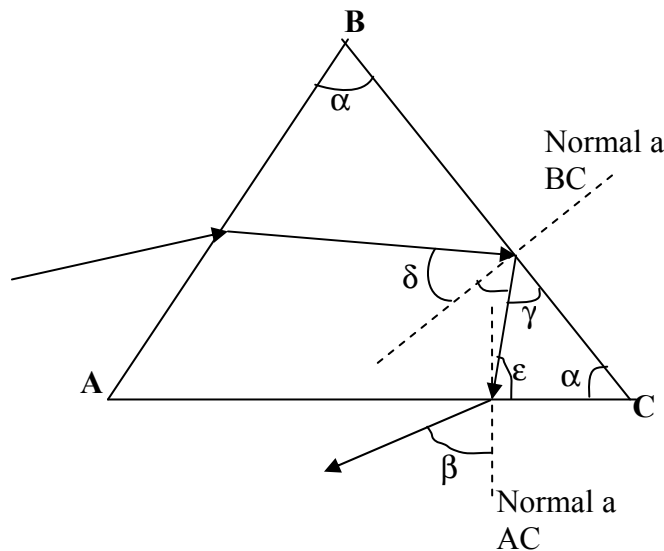
Para que la expresión anterior sea mínima el denominador del segundo miembro ha de ser máximo y el máximo valor posible del coseno es la unidad, por tanto eso ocurre cuando  $i=e$ . Además

$$\text{sen } i = n \text{ sen } r \quad ; \quad n \text{ sen } r' = \text{sen } e = \text{sen } i \quad \Rightarrow \quad r = r' \quad \Rightarrow \quad \cos \frac{r - r'}{2} = 1$$

$$\text{sen} \frac{\delta_{\min} + \alpha}{2} = n \cdot \text{sen} \frac{\alpha}{2}$$

$$\text{sen} \frac{\delta_{\min} + 60^\circ}{2} = 1,5 \cdot \text{sen} \frac{60^\circ}{2} = 0,75 \quad \Rightarrow \quad \frac{2i - 60 + 60^\circ}{2} = 48,59^\circ \quad \Rightarrow \quad i = 48,59^\circ$$

6.-Un prisma de vidrio de  $n = 1,5$  posee un ángulo  $\alpha = 60^\circ$ . Por su cara  $AB$  inciden rayos luminosos que llegan a la cara  $BC$ , unos se refractan y otros se reflejan. Los que se reflejan llegan a la cara  $AC$  y salen al aire formando un cierto ángulo  $\beta$ . Se pide determinar el mayor ángulo  $\beta$  posible.



Los rayos que llegan a la cara  $BC$  y se reflejan deben hacerlo con un ángulo  $\delta$  el cual ha de ser mayor que el ángulo límite, ya que si es menor se refractan en la cara  $BC$ .

De la figura se deduce: que el ángulo de incidencia sobre la cara  $AC$  vale:  
 $90 - \epsilon$  y  $\gamma = 90 - \delta$

Según la ley de Snell

$$n \cdot \text{sen}(90 - \epsilon) = 1 \cdot \text{sen}\beta$$

Para que  $\beta$  sea el mayor ángulo posible es necesario que  $\epsilon$  sea el menor posible.

$$\epsilon + \gamma + \alpha = 180 \quad \Rightarrow \quad \epsilon = 180 - (90 - \delta) - \alpha = 30 + \delta$$

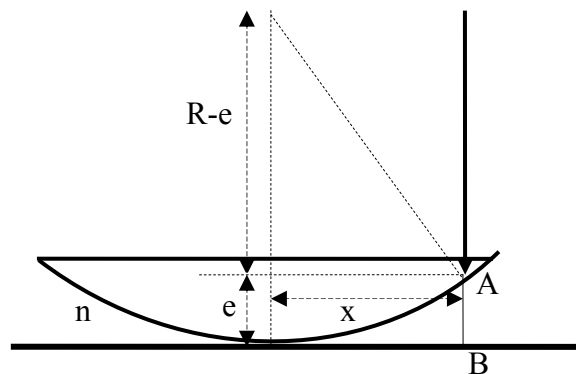
De la última expresión se deduce que el valor mínimo de  $\epsilon$  ocurre cuando  $\delta$  sea mínimo y precisamente el valor mínimo de  $\delta$  se produce cuando es igual al ángulo límite prisma aire.

$$1,5 \cdot \text{sen}l = 1 \cdot \text{sen}90 \quad \Rightarrow \quad \text{sen}l = \frac{1}{1,5} \quad \Rightarrow \quad l = \delta = 41,8^\circ$$

$$1,5 \cdot \text{sen}[90 - (30 + \delta)] = \text{sen}\beta \quad \Rightarrow \quad 1,5 \cdot \text{sen}(90 - 71,8) = \text{sen}\beta \quad \Rightarrow \quad \beta = 27,9^\circ$$

7.-El espacio comprendido entre una lente plano-convexa y un vidrio plano (dispositivo para formar anillos de Newton) está lleno de un líquido de índice de refracción  $n$ . El radio del tercer anillo brillante observado por reflexión vale 3,32 mm. Determinar el valor de  $n$ , sabiendo que el radio de la cara convexa de la lente es 10 m y la luz empleada tiene una longitud de onda de 589 nm.

Los anillos de Newton se forman debido a que el espacio entre la lente y el vidrio crece desde el punto de contacto hacia fuera



Supongamos que el índice de refracción  $n$  es mayor que el de la lente y el vidrio plano. Un rayo luminoso que se refleje en A lo hace con un cambio de fase de  $180^\circ$ . El que se refleja en B lo hace sin cambio de fase. La diferencia de caminos ópticos recorridos por ambos rayos es  $2ne$  y producirán una interferencia constructiva si

$$2ne = N\lambda + \frac{1}{2}\lambda \quad \text{siendo, } N = 0, 1, 2, 3, \dots \quad (1)$$

Si  $n$  fuese menor que el índice de refracción de la lente en A no se produciría cambio de fase pero sí en B, por tanto la expresión anterior es válida para ambos casos.

De la figura se deduce que:

$$R^2 = (R - e)^2 + x^2 = R^2 + e^2 - 2eR + x^2 \quad \Rightarrow \quad x^2 = 2eR - e^2$$

Teniendo en cuenta que el radio de la lente  $R$  es mucho mayor que  $e$ , podemos escribir:

$$e = \frac{x^2}{2R}$$

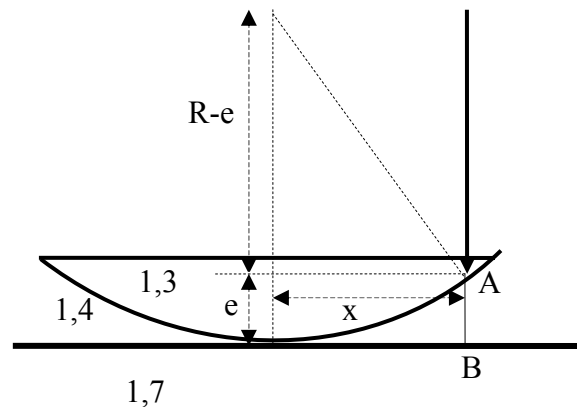
Ecuación que llevada a (1)

$$2n \frac{x^2}{2R} = N\lambda + \frac{1}{2}\lambda \quad \Rightarrow \quad x = \sqrt{\frac{\left(N + \frac{1}{2}\right)\lambda R}{n}}$$

$$3,32^2 = \frac{\left(2 + \frac{1}{2}\right)589 \cdot 10^{-6} \cdot 10 \cdot 10^3}{n} \quad \Rightarrow \quad n = 1,33$$

8.-El espacio comprendido entre una lente plano-convexa y un vidrio plano (dispositivo para formar anillos de Newton) está lleno de un líquido de índice de refracción 1,4. La lente tiene un índice de 1,3 y el vidrio donde se apoya de 1,7. El quinto anillo brillante visto por reflexión vale 2,83 mm ; determinar la longitud de onda de la luz.

Si en el dispositivo anterior se elimina el líquido de índice de refracción 1,4 y se sustituye por aire  $n=1$ , y se emplea la misma luz anterior, calcular el radio del quinto anillo



El rayo que se refleja en A sufre un cambio de fase de  $180^\circ$  y el que se refleja en B también, es como avanzar una longitud de onda.

Se producirán franjas brillantes cuando

$$2ne = m\lambda$$

siendo m un entero que vale 1,2,....

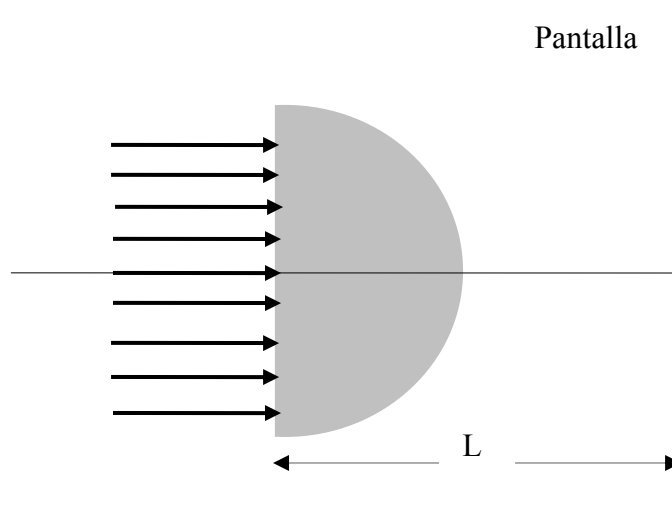
De la figura se deduce ( ver problema 7), teniendo en cuenta que  $e \ll R$  ,  $e = \frac{x^2}{2R}$

$$\frac{2nx^2}{2R} = m\lambda \Rightarrow \lambda = \frac{nx^2}{mR} = \frac{1,4 \cdot 2,83^2}{5 \cdot 4 \cdot 10^3} = 5,61 \cdot 10^{-4} \text{ mm}$$

La segunda parte del problema es la misma que el anterior problema 7 , ya que se produce un cambio de fase de  $180^\circ$  en B.

$$x = \sqrt{\frac{\left(N + \frac{1}{2}\right)\lambda R}{n}} = \sqrt{\frac{\left(4 + \frac{1}{2}\right)5,61 \cdot 10^{-4} \cdot 4 \cdot 10^3}{1}} = 3,18 \text{ mm}$$

9.-Sobre una semiesfera de vidrio, de índice de refracción  $n$  y radio  $r$ , se hace incidir un haz de rayos luminosos en la forma que indica la figura inferior



Se pide determinar el radio de la mancha luminosa que aparece en la pantalla en función de  $L$ ,  $r$  y  $n$ .

Los rayos penetran en la semiesfera y llegan a la superficie esférica con distintos ángulos. Los que lleguen con ángulo menor que el límite salen al exterior de la esfera y llegan a la pantalla, lo que superen el ángulo límite no pueden salir al exterior y por tanto no alcanzan la pantalla.

En la figura 1 el ángulo  $\alpha$  es el ángulo límite al que corresponde un refractado de  $90^\circ$ , el rayo correspondiente es tangente a la superficie esférica. El  $\delta > \alpha$  se refleja.

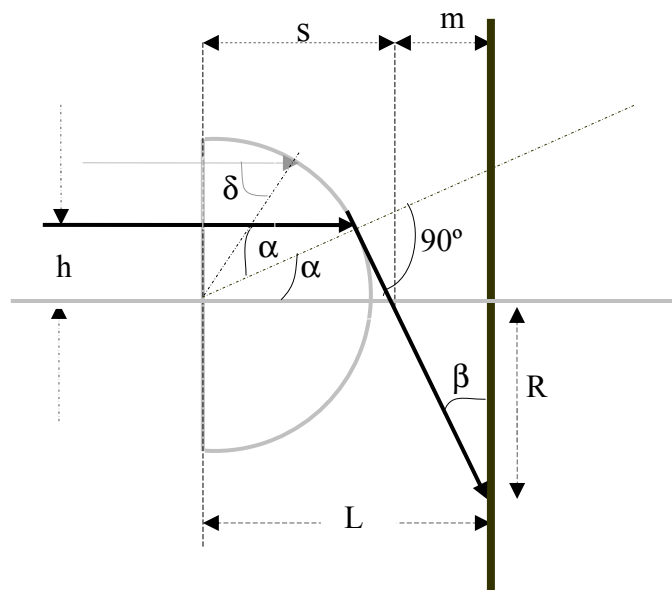


Fig.1

Por ser  $\alpha$  el ángulo límite se cumple que:

$$n \operatorname{sen} \alpha = 1 \operatorname{sen} 90 \Rightarrow \operatorname{sen} \alpha = \frac{1}{n} \Rightarrow \cos \alpha = \sqrt{1 - \frac{1}{n^2}} = \frac{\sqrt{n^2 - 1}}{n} \Rightarrow$$

$$\Rightarrow \operatorname{tag} \alpha = \frac{\frac{1}{n}}{\frac{\sqrt{n^2 - 1}}{n}} = \frac{1}{\sqrt{n^2 - 1}}$$

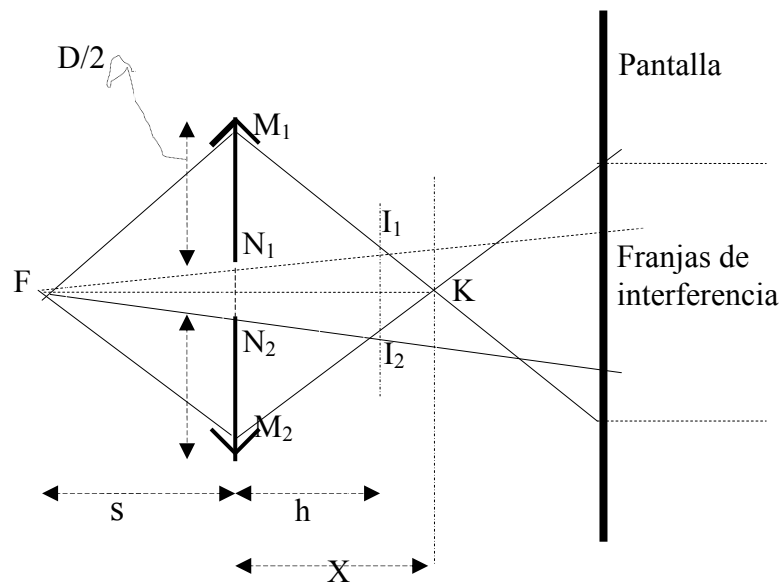
De la figura 1 se deduce que el ángulo  $\alpha$  es igual al  $\beta$ , ya que sus lados son entre sí perpendiculares, además se cumple:

$$\operatorname{sen} \alpha = \frac{h}{r} \Rightarrow h = r \operatorname{sen} \alpha \quad ; \quad \operatorname{tag} \alpha = \operatorname{tag} \beta = \frac{m}{R} = \frac{1}{\sqrt{n^2 - 1}} \Rightarrow R = m \sqrt{n^2 - 1} \Rightarrow$$

$$\Rightarrow R = (L - s) \sqrt{n^2 - 1} \quad ; \quad \cos \alpha = \frac{r}{s} \Rightarrow s = \frac{nr}{\sqrt{n^2 - 1}}$$

$$R = \left( L - \frac{nr}{\sqrt{n^2 - 1}} \right) \sqrt{n^2 - 1} = L \sqrt{n^2 - 1} - nr$$

10.- Una lente convergente de distancia focal 50 cm y diámetro  $D = 5$  cm, se corta por la mitad y ambas mitades se separan una distancia de 5 mm. De esta manera se construye una bilente de Billet que permite obtener interferencias de la luz. La figura inferior muestra esquemáticamente el proceso.  $F$  es un foco luminoso situado a  $s = 100$  cm de la lente, y cada una de las partes de la lente forma una imagen en  $I_1$  e  $I_2$ , los cuales son focos coherentes: a partir del punto  $K$  interfieren los dos haces de luz los cuales al llegar a la pantalla forman figuras de interferencia. Determinar la distancia de  $K$  a la lente



Cada una de las mitades de la lente forma una imagen real, éstas son  $I_1$  e  $I_2$ . La distancia  $N_1N_2 = d = 5$  mm es muy pequeña, por lo que calculamos las posiciones de  $I_1$  e  $I_2$  mediante la fórmula de una lente delgada.

$$-\frac{1}{s} + \frac{1}{s'} = \frac{1}{f'} \Rightarrow -\frac{1}{-100} + \frac{1}{h} = \frac{1}{50} \Rightarrow \frac{1}{h} = \frac{1}{100} \Rightarrow h = 100 \text{ cm}$$

Para calcular la distancia en vertical  $I_1I_2$  comparamos los triángulos semejantes  $FN_1N_2$  y  $FI_1I_2$

$$\frac{d}{s} = \frac{I_1I_2}{s+h} \Rightarrow I_1I_2 = \frac{d(s+h)}{s} = \frac{0,5 \cdot 200}{100} = 1 \text{ cm}$$

Para calcular la distancia  $X$  comparamos los triángulos semejantes  $KM_1M_2$  y  $KI_1I_2$ .

$$\frac{M_1M_2}{X} = \frac{I_1I_2}{X-h} \Rightarrow \frac{5+0,5}{X} = \frac{1}{X-100} \Rightarrow 5,5X - 550 = X \Rightarrow X = 122 \text{ cm}$$

**11.-Un prisma recto isósceles tiene sus caras perpendiculares plateadas. Si un rayo de luz incide sobre la cara hipotenusa con un ángulo arbitrario. Demostrar que el rayo incidente y el emergente son paralelos.**

La figura inferior indica la marcha de la luz .La figura 1, a propósito, es errónea, pues admitimos que todavía no hemos demostrado lo que piden en el problema.

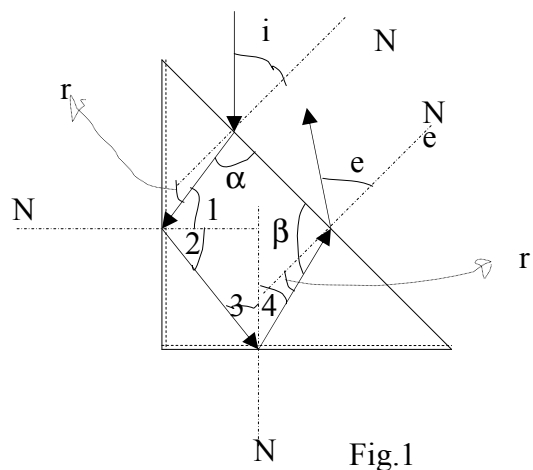


Fig.1

Designamos las siguientes magnitudes.

$i$  ángulo de incidencia sobre la hipotenusa

$r$  ángulo de refracción

$n_1$  índice del medio exterior al prisma

$n_2$  índice de refracción del prisma

1 y 2 ángulos de incidencia y reflexión sobre la primera cara plateada

3 y 4 ángulos de incidencia y reflexión sobre la segunda cara plateada.

$e$ , ángulo de emergencia de la luz

Cualquier normal  $N$  es perpendicular a la cara y por tanto el ángulo que forma con ella es de  $90^\circ$

Si demostramos que el ángulo  $r$  es igual al  $r'$ , entonces se deduce, a partir de la ley de Snell,

$$\left. \begin{aligned} n_1 \operatorname{sen} i &= n_2 \operatorname{sen} r \\ n_2 \operatorname{sen} r' &= n_1 \operatorname{sen} e \end{aligned} \right\}$$

que  $i = e$  y por tanto los rayos incidentes y emergentes son paralelos.

Por las leyes de la reflexión se cumple que  $\hat{1} = \hat{2}$  y  $\hat{3} = \hat{4}$

De la observación de la figura 1 se deduce que  $\hat{2} + \hat{3} = 90^\circ$  y junto con las relaciones anteriores  $\hat{1} + \hat{4} = 90^\circ$ . Sumando se llega a  $\hat{1} + \hat{2} + \hat{3} + \hat{4} = 180^\circ$ .

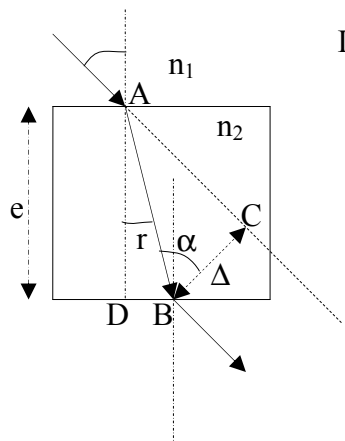
Los rayos de luz dentro del prisma forman un polígono convexo de cuatro lados, cuyos ángulos interiores suman 4 ángulos rectos

$$\hat{1} + \hat{2} + \hat{3} + \hat{4} + \alpha + \beta = 360^\circ \Rightarrow \alpha + \beta = 180$$

Volviendo a la figura 1 se deduce  $\alpha + r = 90^\circ$  y  $\beta - r' = 90^\circ$

Combinado con la ecuación anterior  $(90 - r) + (90 + r') = 180 \Rightarrow r = r'$

12.-Un rayo de luz incide con un ángulo  $i$  sobre una lámina de caras paralelas de espesor  $e$  con índice de refracción  $n_2$ . El medio que rodea a la lámina tiene un índice de refracción  $n_1$ . El rayo emergente se desplaza lateralmente  $\Delta$ , respecto del incidente, tal como indica la figura inferior.



**Demostrar que** 
$$\Delta = e \operatorname{sen} i \left( 1 - \frac{n_1 \operatorname{cos} i}{\sqrt{n_2^2 - n_1^2 \operatorname{sen}^2 i}} \right)$$

De acuerdo con la ley de Snell  $n_1 \operatorname{sen} i = n_2 \operatorname{sen} r$  (1)

En el triángulo ABC,  $\operatorname{cos} \alpha = \frac{\Delta}{AB}$ ; en el triángulo ADB,  $\operatorname{tag} r = \frac{DB}{e}$

$$AB = \sqrt{e^2 + DB^2} = \sqrt{e^2 + e^2 \operatorname{tag}^2 r}$$

En el triángulo ADB

$$\operatorname{sen}(i - r) = \frac{\Delta}{AB} \Rightarrow \Delta = \operatorname{sen}(i - r) \cdot e \sqrt{1 + \operatorname{tag}^2 r}$$

$$\Delta = (\operatorname{sen} i \operatorname{cos} r - \operatorname{cos} i \operatorname{sen} r) \cdot e \cdot \sqrt{1 + \operatorname{tag}^2 r} = (\operatorname{sen} i \sqrt{1 - \operatorname{sen}^2 r} - \operatorname{cos} i \operatorname{sen} r) e \cdot \sqrt{1 + \operatorname{tag}^2 r}$$

De la ecuación (1)  $\operatorname{sen} r = \frac{n_1 \operatorname{sen} i}{n_2}$

$$\sqrt{1 + \operatorname{tag}^2 r} = \sqrt{1 + \frac{\operatorname{sen}^2 r}{\operatorname{cos}^2 r}} = \sqrt{\frac{\operatorname{sen}^2 r + \operatorname{cos}^2 r}{\operatorname{cos}^2 r}} = \frac{1}{\operatorname{cos} r}$$

Llevando estas dos ecuaciones a  $\Delta$

$$\begin{aligned}
\Delta &= \left( \text{sen } i \sqrt{1 - \left( \frac{n_1^2 \text{sen}^2 i}{n_2^2} \right)} - \text{cos } i \frac{n_1 \text{sen } i}{n_2} \right) e \cdot \frac{1}{\sqrt{1 - \frac{n_1^2 \text{sen}^2 i}{n_2^2}}} = \\
&= e \text{ sen } i - e \text{ cos } i \frac{\frac{n_1 \text{sen } i}{n_2}}{\sqrt{1 - \frac{n_1^2 \text{sen}^2 i}{n_2^2}}} \Rightarrow \Delta = e \text{ sen } i - e \text{ cos } i \frac{\frac{n_1 \text{sen } i}{n_2}}{\frac{\sqrt{n_2^2 - n_1^2 \text{sen}^2 i}}{n_2}} = \\
&= e \text{ sen } i - e \text{ cos } i \frac{n_1 \text{sen } i}{\sqrt{n_2^2 - n_1^2 \text{sen}^2 i}} = e \text{ sen } i \left( 1 - \frac{n_1 \text{ cos } i}{\sqrt{n_2^2 - n_1^2 \text{sen}^2 i}} \right)
\end{aligned}$$

**13.-Un sistema óptico consta de dos lentes de la misma distancia focal, una convergente y la otra divergente, separadas entre sí una distancia  $a$  y con el mismo eje óptico. Si desde un objeto muy lejano llega la luz al sistema incidiendo primero en la lente divergente se forma una imagen, pero si la luz incide primero sobre la lente convergente la imagen aparece desplazada 20 cm. Calcular la distancia focal de las lentes.**

Como la luz proviene de un objeto muy lejano la distancia a la lente divergente es infinita y la imagen que forma esta lente del objeto estará en la distancia focal imagen de la lente divergente (recuérdese que esta lente tiene las distancias focales objeto e imagen cambiadas) Esta imagen es objeto para la lente convergente y distará de ella una distancia  $| -f' | + a = f' + a$ , siendo  $f'$  la distancia focal de la lente divergente.

Aplicando la ley de las lentes delgadas a la lente convergente

$$-\frac{1}{s} + \frac{1}{s'} = \frac{1}{f'} \Rightarrow -\frac{1}{-(f'+a)} + \frac{1}{s'} = \frac{1}{f'} \Rightarrow \frac{1}{s'} = \frac{1}{f'} - \frac{1}{(f'+a)} \Rightarrow s' = \frac{f'(f'+a)}{a}$$

Si la luz incide desde el infinito sobre la lente convergente, esta lente formará una imagen a su derecha a una distancia  $f'$ , esta imagen es objeto para la lente divergente y distará de ella  $a - f'$ . Aplicando para la lente divergente la ley de las lentes delgadas

$$-\frac{1}{s} + \frac{1}{s'} = \frac{1}{f'} \Rightarrow -\frac{1}{-(a-f')} + \frac{1}{s''} = -\frac{1}{f'} \Rightarrow \frac{1}{s''} = -\frac{1}{f'} - \frac{1}{(a-f')} \Rightarrow s'' = \frac{f'(f'-a)}{a}$$

De acuerdo con el enunciado del problema

$$s' - s'' = \frac{f'(f'+a) - f'(f'-a)}{a} = 2f' = 20 \Rightarrow f' = 10 \text{ cm}$$

**14.- Sobre una película transparente de espesor  $5,2 \cdot 10^{-7}$  m incide luz blanca con un ángulo de  $31^\circ$  respecto de la normal. El índice de refracción de la película es 1,35. Determinar la longitud de onda de la luz, en la zona del espectro visible (380-780 nm), que no aparece en la luz reflejada.**

En la figura 1 se observa que el rayo AB penetra en la película mientras que el rayo DE se refleja. Ambos rayos interfieren debido a que hay diferencia en el camino óptico recorrido por ellos.

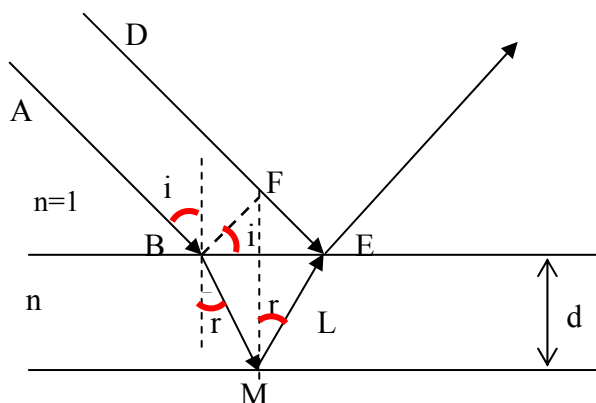


Fig.1

La diferencia de caminos recorrido por los dos rayos es:  $2nL - FE + \frac{\lambda}{2}$ . En la expresión anterior aparece el término de media longitud de onda debido a que el rayo DE se refleja en un medio de mayor índice de refracción y eso supone una inversión de fase por lo que es preciso sumar esa media longitud de onda. Se producirá una interferencia destructiva si la diferencia de caminos ópticos es un múltiplo impar de la semilongitud de onda.

$$2nL - FE + \frac{\lambda}{2} = (2k + 1) \frac{\lambda}{2}$$

De la figura 1 se deduce:

$$FE = BE \operatorname{sen} i \quad ; \quad \operatorname{tag} r = \frac{BE}{d} \Rightarrow BE = 2d \operatorname{tag} r \Rightarrow FE = 2d \operatorname{tag} r \cdot \operatorname{sen} i = 2d \frac{\operatorname{sen} r}{\operatorname{cos} r} \operatorname{sen} i$$

$$\operatorname{sen} r = \frac{BE}{L} \Rightarrow L = \frac{BE}{2 \operatorname{sen} r} = \frac{2d \operatorname{tag} r}{2 \operatorname{sen} r} = \frac{d}{\operatorname{cos} r} = \frac{d}{\sqrt{1 - \operatorname{sen}^2 r}}$$

Según la ley de Snell:  $1 \cdot \text{sen } i = n \text{ sen } r \Rightarrow \text{sen } r = \frac{\text{sen } i}{n}$ , llevando esta ecuación a las dos anteriores:

$$FE = 2d \frac{\frac{\text{sen } i}{n}}{\sqrt{1 - \frac{\text{sen}^2 i}{n^2}}} \cdot \text{sen } i = \frac{2d \cdot \text{sen}^2 i}{\sqrt{n^2 - \text{sen}^2 i}}$$

$$L = \frac{d}{\sqrt{1 - \frac{\text{sen}^2 i}{n^2}}} = \frac{dn}{\sqrt{n^2 - \text{sen}^2 i}}$$

$$2nL - FE + \frac{\lambda}{2} = (2k + 1) \frac{\lambda}{2} \Rightarrow 2n \frac{dn}{\sqrt{n^2 - \text{sen}^2 i}} - \frac{2d \text{sen}^2 i}{\sqrt{n^2 - \text{sen}^2 i}} = \frac{\lambda}{2} (2k + 1 - 1) \Rightarrow$$

$$\Rightarrow \frac{2d(n^2 - \text{sen}^2 i)}{\sqrt{n^2 - \text{sen}^2 i}} = k\lambda \Rightarrow \lambda = \frac{2d\sqrt{n^2 - \text{sen}^2 i}}{k} = \frac{2 \cdot 5,2 \cdot 10^{-7} \sqrt{1,35^2 - \text{sen}^2 31}}{k} = \frac{1,30 \cdot 10^{-6}}{k}$$

Si en la ecuación anterior damos  $k=2$ , resulta:  $\lambda = 6,50 \cdot 10^{-7} \text{ m} = 650 \text{ nm}$  y si hacemos  $k=3$ , resulta:  $\lambda = 4,33 \cdot 10^{-7} \text{ m} = 433 \text{ nm}$

**15.-La punta de un cono con un ángulo  $2\alpha$  se examina con una lente convergente de distancia focal imagen  $f'$ , situado a la distancia  $a$ . El eje principal de la lente coincide con el eje de simetría del cono. Calcular el ángulo bajo el cual se ve el del cono a través de la lente.**

En la figura 1 se hace una imagen esquemática del problema

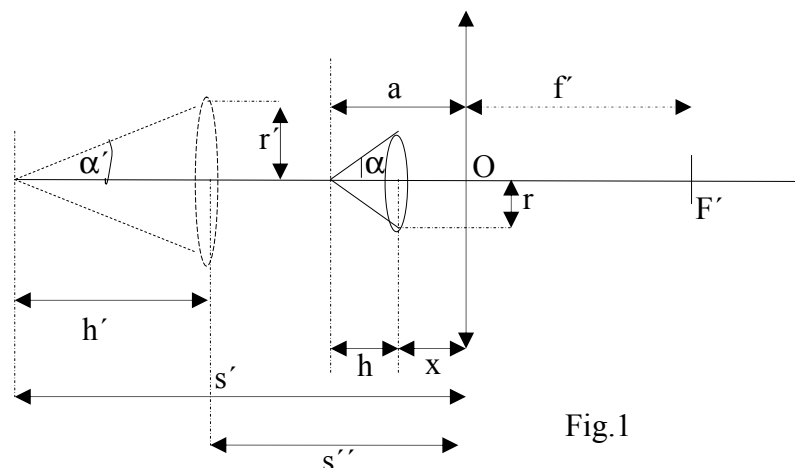


Fig.1

La altura del cono se designa por  $h$  y el radio del círculo por  $r$ . El centro de la base del cono dista, en valor absoluto,  $x$  de la lente, siendo  $x = a - h$ . La imagen de la punta del cono dista, en valor absoluto de la lente,  $s'$  y el centro de la base  $s''$ . Por  $r'$  se designa al radio de la imagen del cono y por  $h'$  su altura.

Utilizamos como criterio de signos que el punto  $O$  es el origen de las medidas y las distancias de  $O$  a la izquierda son negativas y a la derecha positivas, según este criterio la ecuación de las lentes delgadas se escribe:

$$-\frac{1}{s} + \frac{1}{s'} = \frac{1}{f'}$$

Imagen de la punta del cono

$$-\frac{1}{a} + \frac{1}{s'} = \frac{1}{f'} \Rightarrow \frac{1}{f'} + \frac{1}{a} = \frac{1}{s'} \Rightarrow s' = \frac{f' a}{a + f'}$$

Imagen del centro de la base del cono

$$-\frac{1}{x} + \frac{1}{s''} = \frac{1}{f'} \Rightarrow \frac{1}{f'} + \frac{1}{x} = \frac{1}{s''} \Rightarrow s'' = \frac{f' x}{x + f'}$$

$$h' = s' - s'' = \frac{f' a}{a + f'} - \frac{f' x}{x + f'} = \frac{f' ax + f'^2 a - f' ax - f'^2 x}{(a + f')(x + f')} = \frac{f'^2 (a - x)}{(a + f')(x + f')}$$

$$\frac{r'}{s''} = \frac{r}{x} \Rightarrow r' = \frac{r s''}{x} = \frac{r f'}{x + f'}$$

La tangente del ángulo  $\alpha'$  vale:

$$\text{tag } \alpha' = \frac{r'}{h'} = \frac{\frac{r f'}{x + f'}}{\frac{f'^2 (a - x)}{(a + f')(x + f')}} = \frac{r f' (a + f') (x + f')}{f'^2 (a - x) (x + f')} = \frac{r f' (a + f')}{f'^2 (a - x)} = \frac{r (a + f')}{f' (a - x)}$$

Sustituimos  $x$  por  $a-h$

$$\text{tag } \alpha' = \frac{r'}{h'} = \frac{r (a + f')}{f' (a - x)} = \frac{r (a + f')}{f' (a - a + h)} = \frac{r (a + f')}{f' h} \Rightarrow \text{tag } \alpha' = \left( \frac{a}{f'} + 1 \right) \text{tag } \alpha'$$

**16.-Calcular la distancia entre los máximos de las franjas de interferencia producidas por una fuente de luz de longitud de onda 550 nm, colocada a  $b=20$  cm de un biprisma de Fresnel, de índice de refracción  $n=1,46$  y ángulo  $\alpha = 2^\circ$ . La distancia del prisma a la pantalla es de  $D = 2m$ .**

En la figura 1 se ha hecho un esquema (no a escala) en el que se destaca la marcha de los rayos desde los focos virtuales  $S_1$  y  $S_2$ . La distancia  $S_1S_2 = a$ . En la pantalla se ha elegido un punto arbitrario A. Si la diferencia de marcha  $d_2-d_1$  es un múltiplo entero de la longitud de onda, en A se producirá un máximo.

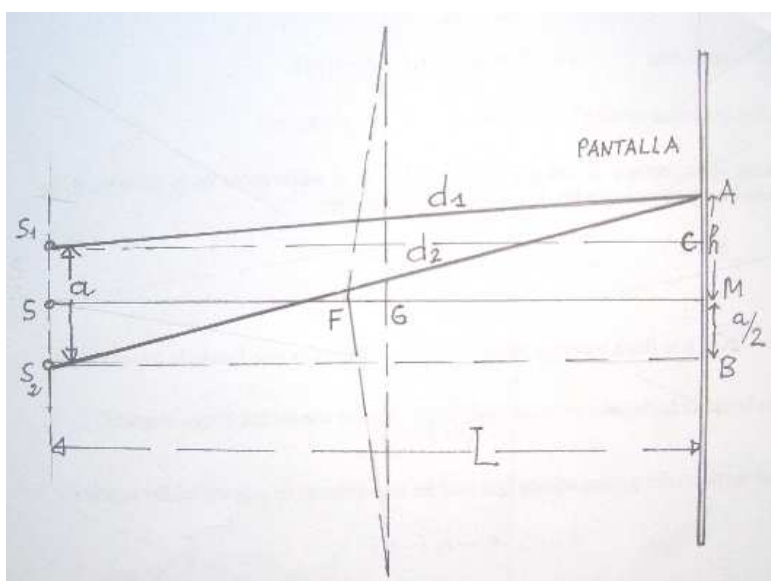


Fig.1

De la figura 1 se deduce:

$$d_2^2 = L^2 + \left(h + \frac{a}{2}\right)^2 ; d_1^2 = L^2 + \left(h - \frac{a}{2}\right)^2 \Rightarrow d_2^2 - d_1^2 = a h \Rightarrow (d_2 + d_1)(d_2 - d_1) = 2 a h \Rightarrow$$

$$\Rightarrow d_2 - d_1 = \frac{2 a h}{(d_2 + d_1)} = m \lambda \quad \Rightarrow \quad h = \frac{m \lambda (d_2 + d_1)}{2 a}$$

En la ecuación anterior se puede sustituir  $d_2+d_1$  por  $2 L=2 ( D+b)$

$$h = \frac{m \lambda (D + b)}{a} \quad (1)$$

Para obtener  $h$  es preciso conocer  $a$ , esto es, la distancia entre los focos virtuales  $S_1$  y  $S_2$ .

En la figura 2 se ha hecho un esquema en la que se contempla la mitad superior de un biprisma de Fresnel. Para poder hacer el dibujo, el ángulo del prisma se ha hecho de  $20^\circ$  en lugar de los  $2^\circ$  que dice el problema.

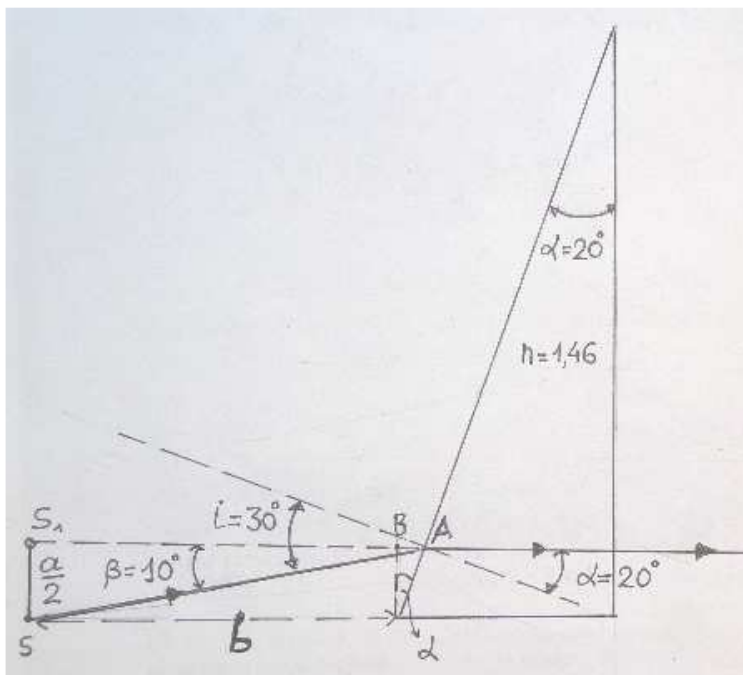


Fig.2

Queremos que el ángulo de refracción  $r$  en la primera cara del prisma sea  $20^\circ$  igual al ángulo del prisma.

$$1 \cdot \text{sen } i = 1,46 \cdot \text{sen } 20^\circ \Rightarrow i = 30^\circ$$

Teniendo en cuenta que en un prisma  $\alpha = r + r' \Rightarrow r' = 0^\circ$ . Por tanto el rayo penetra en la dirección normal de la segunda cara y su prolongación en  $S_1$ . De la figura 2 se deduce:

$$\beta = i - \alpha = 30 - 20 = 10^\circ ; \quad \text{sen } \beta = \text{sen}(i - \alpha) = \text{sen } 10^\circ = \frac{\frac{a}{2}}{SA} \approx \frac{\frac{a}{2}}{b}$$

Dado que el biprisma de Fresnel se caracteriza porque el ángulo alfa es muy pequeño, en el problema 2º, podemos escribir:

$$1 \cdot i = n \alpha \Rightarrow \beta = i - \alpha = n \alpha - \alpha = \alpha(n - 1) \Rightarrow \beta = \frac{a}{b} = \alpha(n - 1) \Rightarrow \\ \Rightarrow a = 2(n - 1)\alpha b$$

Llevando el valor de  $a$  a la ecuación (1)

$$h = \frac{m\lambda(D + b)}{2(n - 1)\alpha b} = \frac{1 \cdot 550 \cdot 10^{-9} \cdot (2 + 0,2)}{2 \cdot (1,46 - 1) \cdot \frac{2 \cdot 3,14}{180} \cdot 0,2} = 1,88 \cdot 10^{-4} \text{ m}$$

17.- Un haz paralelo de electrones que ha sido acelerado mediante un diferencia de potencial  $U = 25 \text{ V}$ , incide normalmente sobre un diafragma con dos rendijas estrechas distantes entre sí,  $d = 50 \text{ }\mu\text{m}$ . Detrás del diafragma y a una distancia  $D = 1 \text{ m}$  se coloca una pantalla. Se pide calcular la distancia entre dos máximos adyacentes del cuadro de difracción.

Datos : Constante de Planck  $= 6,6 \cdot 10^{-34} \text{ Js}$ ; masa del electrón  $9,1 \cdot 10^{-31} \text{ kg}$ , carga del electrón  $1,6 \cdot 10^{-19} \text{ C}$

Según la teoría de De Broglie las partículas pueden exhibir comportamiento ondulatorio siendo la longitud de onda asociada:

$$\lambda = \frac{h}{mv}$$

$h$  es la constante de Planck,  $m$  la masa de la partícula y  $v$  su velocidad.

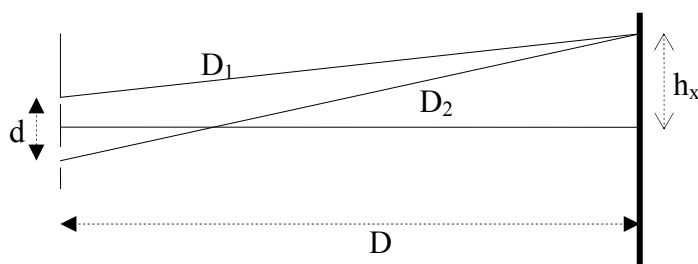
La energía que adquieren los electrones cuando son acelerados es

$$\frac{1}{2}mv^2 = qU \Rightarrow v = \sqrt{\frac{2qU}{m}}$$

La longitud de onda es:

$$\lambda = \frac{h}{m\sqrt{\frac{2qU}{m}}} = \frac{h}{\sqrt{2mqU}}$$

En la figura siguiente se representa la marcha de los electrones después de atravesar las dos rendijas.



$D_1$  y  $D_2$  son las distancias recorridas por los electrones según que atraviesen una u otra rendija,  $h_x$  es la distancia desde el centro de la pantalla hasta la posición de un máximo. Se cumple:

$$D_2 - D_1 = x\lambda$$

$x$  es un número entero.

$$D_1^2 = D^2 + \left(h_x - \frac{d}{2}\right)^2 \quad ; \quad D_2^2 = D^2 + \left(h_x + \frac{d}{2}\right)^2 \Rightarrow D_2^2 - D_1^2 = 2dh_x \Rightarrow$$

$$\Rightarrow (D_2 + D_1)(D_2 - D_1) = 2dh_x \Rightarrow D_2 - D_1 = \frac{2dh_x}{D_2 + D_1} = x\lambda$$

La suma de las distancias  $D_2 + D_1$  es aproximadamente igual a  $2D$ .

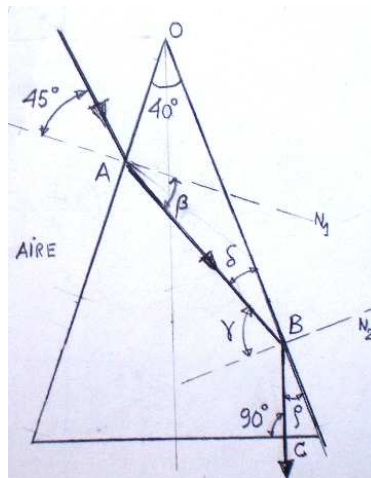
$$h_x = \frac{x \lambda D}{d}$$

El máximo siguiente se producirá a una distancia  $h_x = \frac{x \lambda D}{d}$ . La distancia entre esos dos máximos es:

$$h_{x+1} - h_x = \Delta x = \frac{\lambda D}{d} (x+1 - x) = \frac{\lambda D}{d} = \frac{\frac{h}{\sqrt{2mqU}}}{d} = \frac{6,6 \cdot 10^{-34}}{50 \cdot 10^{-6} \sqrt{2 \cdot 9,1 \cdot 10^{-31} \cdot 1,6 \cdot 10^{-19} \cdot 25}}$$

$$\Delta x = 4,9 \cdot 10^{-6} \text{ m} = 4,9 \mu\text{m}$$

18. En la figura inferior se indica la marcha de un rayo monocromático de luz que incide sobre un prisma isósceles.



**Determinar el índice de refracción del mencionado prisma.**

Aplicamos la ley de Snell

$$1 \cdot \sin 45 = n \sin \beta \Rightarrow \sin \beta = \frac{\sqrt{2}}{2n}$$

La bisectriz del ángulo del prisma es paralela al rayo BC, por lo que  $\rho = 20^\circ$

$$\gamma + \delta = 90^\circ \text{ y } \gamma + \rho = 90^\circ \Rightarrow \delta = \rho = 20^\circ$$

Del triángulo OAB se deduce

$$40 + (90 + \beta) + \delta = 180^\circ \Rightarrow \beta = 50 - \delta = 30^\circ$$

$$\sin \beta = \sin 30^\circ = \frac{1}{2} = \frac{\sqrt{2}}{2n} \Rightarrow n = \sqrt{2}$$

**19. La distancia entre el objeto y la imagen en una lente convergente es 12,5 cm. El objeto tiene un tamaño de 5 mm siendo el aumento lateral  $\beta = -1,5$ . Determinar las distancias  $s$  y  $s'$  de la lente al objeto y a la imagen y la distancia focal de la lente.**

De la interpretación del aumento lateral se deduce que la imagen es real, invertida y de mayor tamaño que el objeto, por consiguiente el objeto está situado a una distancia de la lente mayor que la focal.

$$\beta = -1,5 = \frac{y'}{y} = \frac{s'}{s} \Rightarrow s' = -1,5 \cdot s \quad -s + s' = 12,5 \Rightarrow -s - 1,5s = 12,5 \Rightarrow s = -5 \text{ cm}$$

$$\Rightarrow s' = 12,5 + s = 12,5 - 5 = 7,5 \text{ cm}$$

Según la ley de las lentes

$$-\frac{1}{s} + \frac{1}{s'} = \frac{1}{f'} \Rightarrow -\frac{1}{-5} + \frac{1}{7,5} = \frac{1}{f'} = \frac{7,5 + 5}{37,5} \Rightarrow f' = 3 \text{ cm}$$